


## Multiplications Niveau 1


**Observe:** ce rectangle est composé de 12 briques et représente le nombre 12 sous la forme  $3 \times 4$  ou  $4 \times 3$



Trouve tous les rectangles pouvant représenter le nombre 18.

## Multiplications Niveau 2


**Observe:** ce rectangle est composé de 12 briques et représente le nombre 12 sous la forme  $3 \times 4$  ou  $4 \times 3$



Trouve tous les rectangles pouvant représenter le nombre 30.

## Multiplications Niveau 3

**Observe:** ce rectangle est composé de 12 briques et représente le nombre 12 sous la forme  $3 \times 4$  ou  $4 \times 3$



Trouve tous les rectangles pouvant représenter le nombre 50.