



### Les tours Niveau 1

Observe les tours ci-dessous et cherche combien de briques il faut prendre pour construire la tour suivante.




### Les tours Niveau 2

Observe les tours ci-dessous et cherche combien de briques il faut prendre pour construire la tour suivante.



### Les tours Niveau 3

Observe les tours ci-dessous et cherche combien il faut prendre de briques rouges pour construire la 5<sup>ème</sup> tour et de briques vertes pour construire la 6<sup>ème</sup> tour.



Pour aller plus loin : Quelle sera la couleur de la 10<sup>ème</sup> tour ?