


## Les Barres Niveau 1


Avec 4 briques, je peux former 1 barre de 4 briques ou 4 barres de 1 brique ou 2 barres de 2 briques comme sur les images ci-dessous.



$4 \times 1 = 4$



$1 \times 4 = 4$



$2 \times 2 = 4$

**Cherche toutes les barres identiques que l'on peut faire avec 12 briques et note les écritures mathématiques correspondantes.**


Attention à bien utiliser toutes les briques à chaque fois!

## Les Barres Niveau 2


Avec 4 briques, je peux former 1 barre de 4 briques ou 4 barres de 1 brique ou 2 barres de 2 briques comme sur les images ci-dessous.



$4 \times 1 = 4$



$1 \times 4 = 4$



$2 \times 2 = 4$

**Cherche toutes les barres identiques que l'on peut faire avec 24 briques et note les écritures mathématiques correspondantes.**


Attention à bien utiliser toutes les briques à chaque fois!

## Les Barres Niveau 3


Avec 4 briques, je peux former 1 barre de 4 briques ou 4 barres de 1 brique ou 2 barres de 2 briques comme sur les images ci-dessous.



$4 \times 1 = 4$



$1 \times 4 = 4$



$2 \times 2 = 4$

**Cherche toutes les barres identiques que l'on peut faire avec 30 briques et note les écritures mathématiques correspondantes.**

Attention à bien utiliser toutes les briques à chaque fois!