




## Calculs rapides Niveau 1

Calcule le plus vite possible le nombre total de briques sur chaque image en cherchant les compléments à dix, les doubles....



## Calculs rapides Niveau 2

Calcule le plus vite possible le nombre total de briques sur chaque image en cherchant les compléments à dix, les doubles....



## Calculs rapides Niveau 3

Calcule le plus vite possible le nombre total de briques sur chaque image en cherchant les compléments à dix, les doubles....

