


Double figure Niveau 1


Quatre briques à 4 plots forment un carré
comme sur la photo ci-dessous:



**Combien faut-il de briques à 4 plots pour construire
un carré deux fois plus grand?**


Double figure Niveau 2

Deux briques à 8 plots forment un rectangle
comme sur la photo ci-dessous:



**Combien faut-il de briques à 8 plots pour construire
un rectangle deux fois plus grand?**

Double figure Niveau 3



**Observer la figure ci-dessus et la reconstruire
en doublant ses mesures.**