

Aire Niveau 1

Sachant que:

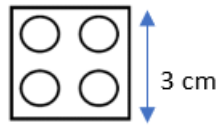



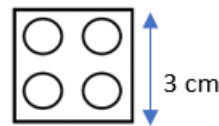
Figure A:



Déterminer l'aire de la figure A. Trouver deux façons de la calculer.

Aire Niveau 2

En utilisant ces Duplo :



construire deux figures ayant le même périmètre mais une aire différente.

Que faut-il pour que l'aire varie ?

Aire Niveau 3

Voici 3 figures différentes (briques vertes), pouvez-vous, sans calculer, les ranger dans l'ordre décroissant selon leurs aires.

figure 1




figure 2



figure 3

