


Problème 2: Les cartes postales

Lors d'un voyage, Léa a envoyé 12 cartes postales en 3 jours, de lundi à mercredi.

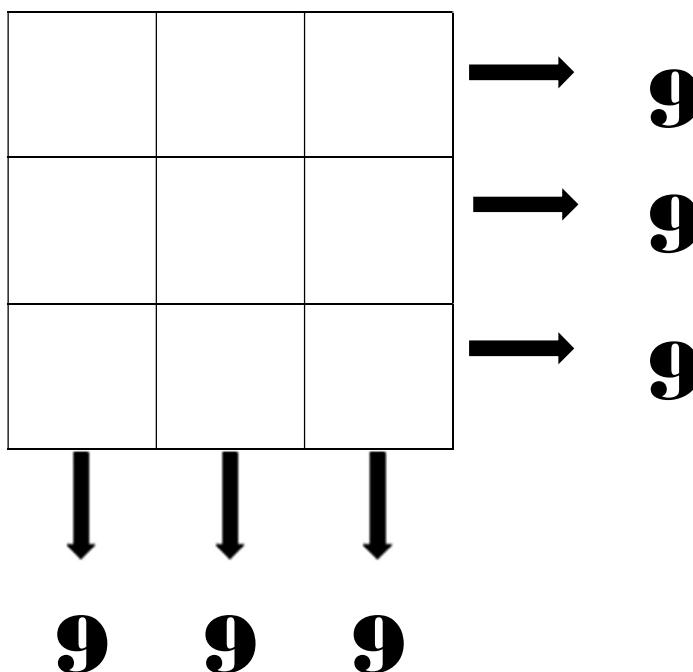


Chaque jour, elle a envoyé une carte de plus que le jour précédent.

Combien Léa a-t-elle envoyé de cartes postales le mercredi ?



Problème 3: Le carré magique

Complète le carré magique :













Problème 4: La chasse au trésor

Tu te trouves sur un voilier en (A,8).

Déplace-toi de :

- Trois cases vers la droite,
- Puis de deux cases vers le bas,
- Puis de quatre cases vers la droite,
- Puis de quatre cases vers le bas,
- Puis de six cases vers la gauche.

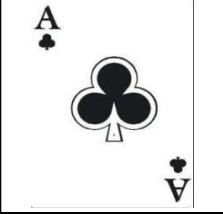














Dans quelle case se trouve le trésor ?

8								
7								
6								
5								
4								
3								
2								
1								
	A	B	C	D	E	F	G	H

Problème 5: Le code secret

En trouvant les 3 bonnes cartes, tu ouvriras le coffre-fort...



			Aucune carte correcte
			Une seule carte correcte mal placée
			Une seule carte correcte bien placée
			Une seule carte correcte bien placée
			Une seule carte correcte mal placée

Le code secret est:

--	--	--