

Les immeubles:




Combien voyez-vous d'immeubles ?

Combien voyez-vous d'immeubles ?

Défi 1 : Effectuez la construction qui correspond à ces 2 photos.

Défi 2 : Complète avec le nombre d'immeubles




Défi 3 : Placez vos cubes en respectant les indications du tableau




exemple

	2	1	2	
2				2
1				3
2				1
	2	3	1	



Chère, cher collègue,

Les élèves devront avoir la possibilité de manipuler avec des cubes qui représenteront des tours ou immeubles de 3 hauteurs différentes si possible utiliser une couleur différente pour chaque hauteur, par exemple :



Il faut comprendre que le nombre indiqué dans chaque colonne est le nombre d'immeubles que l'on peut voir de ce point de vue.

Il est possible de faire le lien avec le problème « juste assez » de la phase 1 et « Les cubes » de la phase 2.

Il faudra expliciter la consigne aux élèves. Il s'agit d'observer une construction de tours ou d'immeubles de différentes hauteurs. Selon le point de vue, on pourra ou non les dénombrer toutes.

Les défis 1 et 2 préparent au défi 3, seule la réponse au défi 3 est attendue.

Sachant qu'il y a plusieurs solutions, la mise en commun collective risque d'être fastidieuse on pourra privilégier des validations groupe à groupe.

La réponse (une possibilité) pourra se faire sous forme de photo(s).
N'hésitez pas à nous envoyer également des photos, vos retours et un témoignage.

Bon rallye !

Fiche réponse CE1 – Phase finale
Retourner à : (avec les photos) : florence.deon1@ac-rouen.fr
Circonscription :
École (indiquer le nom de l'école et de la commune) :
Classe (indiquer le nom de l'enseignant) :
Adresse courriel (pour le retour de l'attestation de participation ou de réussite) :

