



L'escalier Niveau 1

Combien de briques à 4 plots et à 8 plots faut-il pour ajouter 2 marches à cet escalier ?



4 plots



8 plots


L'escalier Niveau 2

Construis un escalier comme celui ci-dessous et continue-le à droite pour que le personnage puisse redescendre.




L'escalier Niveau 3

A toi de construire cet escalier tournant.



Vue de côté



Vue du dessus