

Construire des solides Niveau 1

En prenant 4 briques comme celle-ci:



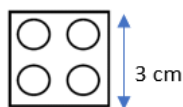
Trouve tous les pavés que l'on peut construire.

Construire des solides Niveau 2

Sachant que ces briques DUPLO




ont les dimensions:




Combien faut-il de briques pour construire le plus petit cube possible?

Construire des solides Niveau 3

Construis une pyramide comme celle-ci



à partir de la base suivante:



Quelle sera la forme du dernier étage? Pourquoi?