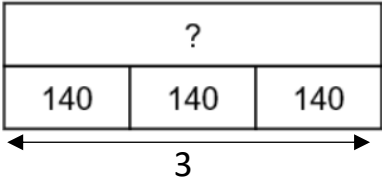
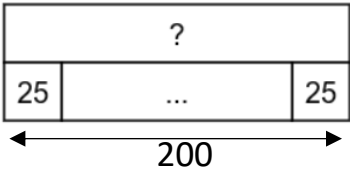
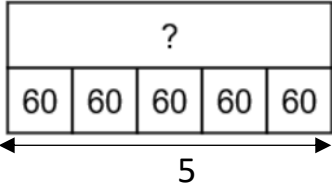
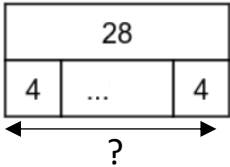
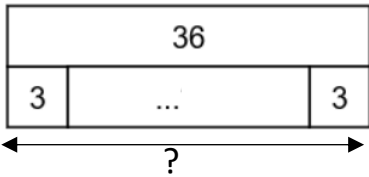
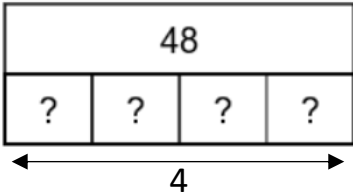


<p>Sur un parking, il y a 26 voitures et 8 camions. Combien y a-t-il de véhicules sur le parking ?</p>	<table border="1" style="margin: auto;"> <tr> <td colspan="2" style="text-align: center;">?</td> </tr> <tr> <td style="text-align: center;">26</td> <td style="text-align: center;">8</td> </tr> </table>	?		26	8	$26 + 8 = ?$
?						
26	8					
<p>Dans mes coffres, j'ai 120 billes. J'en ai 80 dans mon coffre rouge. Combien en ai-je dans mon coffre vert ?</p>	<table border="1" style="margin: auto;"> <tr> <td colspan="2" style="text-align: center;">120</td> </tr> <tr> <td style="text-align: center;">80</td> <td style="text-align: center;">?</td> </tr> </table>	120		80	?	$80 + ? = 120$ $120 - 80 = ?$
120						
80	?					
<p>J'ai ajouté 6 fleurs à mon bouquet. Il en compte maintenant 18. Combien avais-je de fleurs avant ?</p>	<table border="1" style="margin: auto;"> <tr> <td colspan="2" style="text-align: center;">18</td> </tr> <tr> <td style="text-align: center;">?</td> <td style="text-align: center;">6</td> </tr> </table>	18		?	6	$? + 6 = 18$ $18 - 6 = ?$
18						
?	6					
<p>Mon cahier de brouillon a 48 pages. Celui de Karim en a 32. Combien le cahier de Karim a-t-il de pages de moins que le mien ?</p>	<table border="1" style="margin: auto;"> <tr> <td colspan="2" style="text-align: center;">48</td> </tr> <tr> <td style="text-align: center;">32</td> <td style="text-align: center;">?</td> </tr> </table>	48		32	?	$32 + ? = 48$ $48 - 32 = ?$
48						
32	?					
<p>Dans ma boîte, il y avait des images. J'en ai distribué 50 et il m'en reste encore 162. Combien y avait-il d'images dans ma boîte avant que j'en distribue ?</p>	<table border="1" style="margin: auto;"> <tr> <td colspan="2" style="text-align: center;">?</td> </tr> <tr> <td style="text-align: center;">50</td> <td style="text-align: center;">162</td> </tr> </table>	?		50	162	$? - 50 = 162$ $162 + 50 = ?$
?						
50	162					
<p>Un marchand d'œufs va au marché avec 600 œufs. Il en vend 425. Combien en ramènera-t-il ?</p>	<table border="1" style="margin: auto;"> <tr> <td colspan="2" style="text-align: center;">600</td> </tr> <tr> <td style="text-align: center;">425</td> <td style="text-align: center;">?</td> </tr> </table>	600		425	?	$425 + ? = 600$ $600 - 425 = ?$
600						
425	?					

<p>Antoine et Nicolas collectionnent des cartes. Antoine en a 140 et Nicolas en a 3 fois plus. Combien Nicolas a-t-il de cartes dans sa collection ?</p>		<p>$3 \times 140 = ?$</p>
<p>La directrice de l'école achète 200 cartons de 25 cahiers. Combien a-t-elle acheté de cahiers pour l'école ?</p>		<p>$200 \times 25 = ?$</p>
<p>Sur le sol du couloir, il y a 5 rangées de 60 carreaux. Combien de carreaux y-a-t-il sur le sol du couloir ?</p>		<p>$5 \times 60 = ?$</p>
<p>Il y a 28 élèves dans la classe de CE2. Le maître veut faire des équipes de 4 enfants. Combien fait-il d'équipes ?</p>		<p>$28 = 4 \times ?$ $28 : 4 = ?$</p>
<p>Tina fait des tours de piste pendant 36 minutes. Elle met 3 minutes pour faire 1 tour. Combien de tours a-t-elle fait ?</p>		<p>$36 : 3 = ?$</p>
<p>Avec 48 €, j'ai pu acheter 4 bandes dessinées. Combien coûte une bande dessinée ?</p>		<p>$48 : 4 = ?$</p>