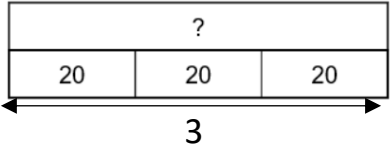
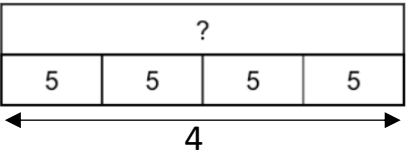
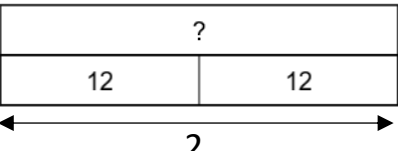
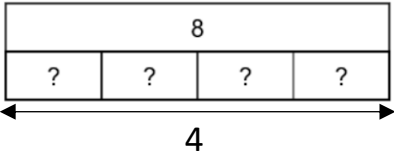
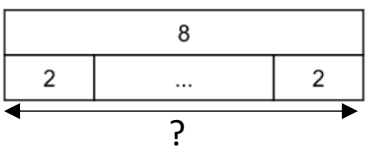
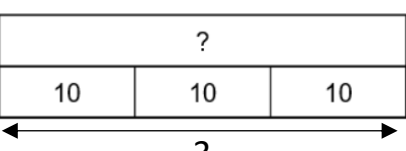


<p>Dans ma boîte de jeu, il y a 6 cubes jaunes, 5 cubes rouges et 10 cubes verts. Combien ai-je de cubes dans ma boîte ?</p>	<table border="1" style="margin: auto;"> <tr> <td colspan="3" style="text-align: center;">?</td> </tr> <tr> <td style="text-align: center;">6</td> <td style="text-align: center;">5</td> <td style="text-align: center;">10</td> </tr> </table>	?			6	5	10	<p style="text-align: center;">$6 + 5 + 10 = ?$</p>
?								
6	5	10						
<p>La maîtresse avait 58 cahiers. Elle en distribue 16. Combien lui en reste-t-il ?</p>	<table border="1" style="margin: auto;"> <tr> <td colspan="2" style="text-align: center;">58</td> </tr> <tr> <td style="text-align: center;">16</td> <td style="text-align: center;">?</td> </tr> </table>	58		16	?	<p style="text-align: center;">$58 - 16 = ?$</p>		
58								
16	?							
<p>Dans mes boîtes, j'ai 80 billes. J'en ai 30 dans ma boîte rouge. Combien ai-je de billes dans ma boîte verte ?</p>	<table border="1" style="margin: auto;"> <tr> <td colspan="2" style="text-align: center;">80</td> </tr> <tr> <td style="text-align: center;">30</td> <td style="text-align: center;">?</td> </tr> </table>	80		30	?	<p style="text-align: center;">$30 + ? = 80$</p> <p style="text-align: center;">$80 - 30 = ?$</p>		
80								
30	?							
<p>Au CE1, il y a 25 élèves. Les CE2 sont 6 de moins. Combien y a-t-il d'élèves au CE2 ?</p>	<table border="1" style="margin: auto;"> <tr> <td colspan="2" style="text-align: center;">25</td> </tr> <tr> <td style="text-align: center;">6</td> <td style="text-align: center;">?</td> </tr> </table>	25		6	?	<p style="text-align: center;">$25 - 6 = ?$</p>		
25								
6	?							
<p>Ce matin, Alex a donné 11 images à Tina. Ce soir, il en a 16 de moins qu'en arrivant. Combien en a-t-il donné l'après-midi ?</p>	<table border="1" style="margin: auto;"> <tr> <td colspan="2" style="text-align: center;">16</td> </tr> <tr> <td style="text-align: center;">11</td> <td style="text-align: center;">?</td> </tr> </table>	16		11	?	<p style="text-align: center;">$11 + ? = 16$</p> <p style="text-align: center;">$16 - 11 = ?$</p>		
16								
11	?							
<p>Dans ma boîte, il y avait des bonbons. J'en ai distribués 40 et il m'en reste encore 68. Combien y avait-il de bonbons dans ma boîte avant que j'en distribue ?</p>	<table border="1" style="margin: auto;"> <tr> <td colspan="2" style="text-align: center;">?</td> </tr> <tr> <td style="text-align: center;">40</td> <td style="text-align: center;">68</td> </tr> </table>	?		40	68	<p style="text-align: center;">$? = 40 + 68$</p>		
?								
40	68							

<p>Lucie a fabriqué 3 colliers avec 20 perles chacun. Combien a-t-elle utilisé de perles?</p>	<table border="1" style="margin: auto;"> <tr><td colspan="3" style="text-align: center;">?</td></tr> <tr><td style="text-align: center;">20</td><td style="text-align: center;">20</td><td style="text-align: center;">20</td></tr> </table>	?			20	20	20	<p style="text-align: center;">$20 + 20 + 20 = ?$</p>		
?										
20	20	20								
<p>Dans la salle, il y a 4 rangées de 5 chaises. Combien de personnes peuvent-elles s'asseoir ?</p>	<table border="1" style="margin: auto;"> <tr><td colspan="4" style="text-align: center;">?</td></tr> <tr><td style="text-align: center;">5</td><td style="text-align: center;">5</td><td style="text-align: center;">5</td><td style="text-align: center;">5</td></tr> </table>	?				5	5	5	5	<p style="text-align: center;">$5 + 5 + 5 + 5 = ?$</p>
?										
5	5	5	5							
<p>J'ai 12 images. Marie en a 2 fois plus que moi. Combien Marie a-t-elle d'images ?</p>	<table border="1" style="margin: auto;"> <tr><td colspan="2" style="text-align: center;">?</td></tr> <tr><td style="text-align: center;">12</td><td style="text-align: center;">12</td></tr> </table>	?		12	12	<p style="text-align: center;">$12 + 12 = ?$</p>				
?										
12	12									
<p>Avec 8 €, j'ai pu acheter 4 bouteilles de jus de pommes. Combien coûte une seule bouteille ?</p>	<table border="1" style="margin: auto;"> <tr><td colspan="4" style="text-align: center;">8</td></tr> <tr><td style="text-align: center;">?</td><td style="text-align: center;">?</td><td style="text-align: center;">?</td><td style="text-align: center;">?</td></tr> </table>	8				?	?	?	?	<p style="text-align: center;">$? + ? + ? + ? = 8$</p>
8										
?	?	?	?							
<p>Tina a 8 €. Elle veut acheter des paquets de gâteaux à 2€. Combien peut-elle acheter de paquets avec son argent ?</p>	<table border="1" style="margin: auto;"> <tr><td colspan="3" style="text-align: center;">8</td></tr> <tr><td style="text-align: center;">2</td><td style="text-align: center;">...</td><td style="text-align: center;">2</td></tr> </table> <p style="text-align: center;"> </p>	8			2	...	2	<p style="text-align: center;"> $2 + \dots + 2 = 8$ </p>		
8										
2	...	2								
<p>Lucie a fabriqué 3 colliers avec 10 perles chacun. Combien a-t-elle utilisé de perles?</p>	<table border="1" style="margin: auto;"> <tr><td colspan="3" style="text-align: center;">?</td></tr> <tr><td style="text-align: center;">10</td><td style="text-align: center;">10</td><td style="text-align: center;">10</td></tr> </table>	?			10	10	10	<p style="text-align: center;">$10 + 10 + 10 = ?$</p>		
?										
10	10	10								

<p>Lucie a fabriqué 3 colliers avec 20 perles chacun. Combien a-t-elle utilisé de perles?</p>		$3 \times 20 = ?$
<p>Dans la salle, il y a 4 rangées de 5 chaises. Combien de personnes peuvent-elles s'asseoir ?</p>		$4 \times 5 = ?$
<p>J'ai 12 images. Marie en a 2 fois plus que moi. Combien Marie a-t-elle d'images ?</p>		$2 \times 12 = ?$
<p>Avec 8 €, j'ai pu acheter 4 bouteilles de jus de pommes. Combien coûte une seule bouteille ?</p>		$4 \times ? = 8$
<p>Tina a 8 €. Elle veut acheter des paquets de gâteaux à 2€. Combien peut-elle acheter de paquets avec son argent ?</p>		$? \times 2 = 8$
<p>Lucie a fabriqué 3 colliers avec 10 perles chacun. Combien a-t-elle utilisé de perles?</p>		$3 \times 10 = ?$